



Nombre _____ Fecha _____

1 Explica la diferencia entre planeta y satélite.

2 Escribe el nombre de los planetas del sistema solar desde los más cercanos al Sol hasta los más alejados.

3 Describe el movimiento de traslación de la Tierra y explica sus consecuencias.

4 Calcula la distancia real que hay entre Logroño y Alfaro.

- La distancia real en línea recta entre Logroño y Alfaro es:



5 Si las coordenadas de un lugar son 30° N, 20° E, ¿en qué hemisferio se encuentra? Explica por qué.

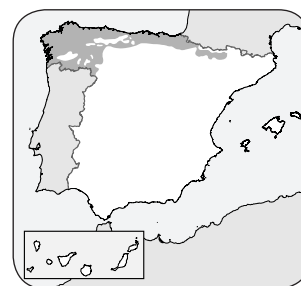
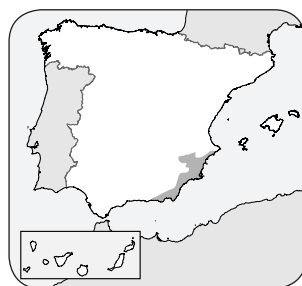
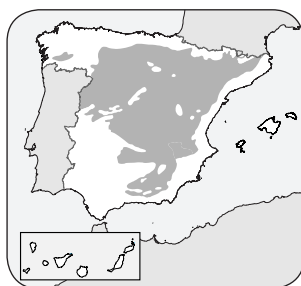
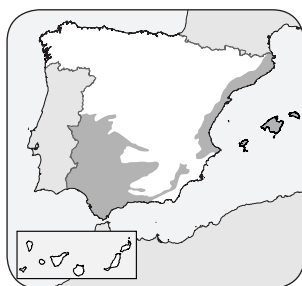
6 Escribe en qué continente se encuentra:

- Everest: _____
- Río Nilo: _____
- Andes: _____
- Volga: _____
- Alpes: _____
- Río Amazonas: _____

7 ¿Por qué en las zonas costeras de España las diferencias de temperatura entre el mes más frío y el más cálido no son tan grandes? Razona.

8 ¿En qué se diferencia el clima mediterráneo típico y el de interior? Explica.

9 Indica el tipo de clima representado en cada mapa.



10 ¿Cómo se organiza la vegetación de Canarias?
