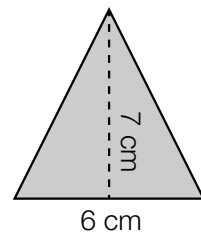
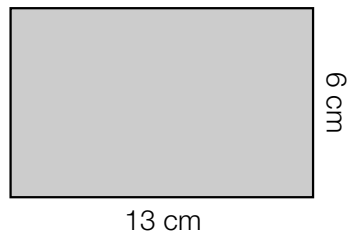
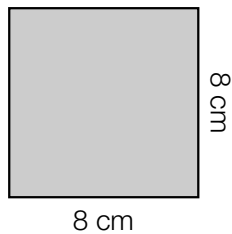


Área del cuadrado, del rectángulo y del triángulo

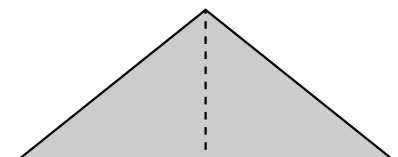
Nombre _____ Fecha _____

1 Calcula el área de cada figura.



2 Toma las medidas necesarias y anótalas sobre los polígonos. Después, calcula el área de cada uno de ellos.

Mate+



3 Lee y resuelve.

A La base de un triángulo mide 12 cm y su altura 8 cm. ¿Cuál es su área?

B El perímetro de un cuadrado mide 24 cm. ¿Cuánto mide su lado? ¿Cuánto mide su área?

